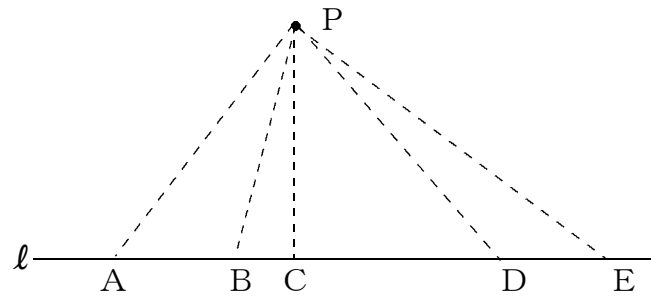
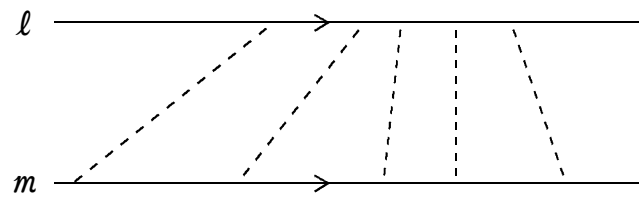


※ 点と直線の距離

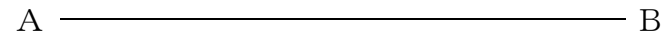


※ 平行線間の距離



基本の作図

※ 垂直二等分線の作図

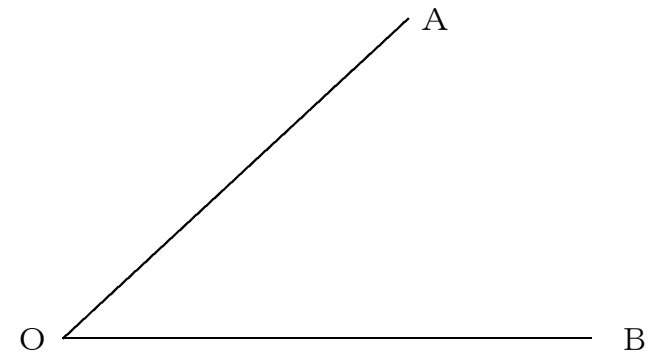


垂直二等分線とは

1. …… _____

2. …… _____

※ 角の二等分線の作図



角の二等分線とは

1. …… _____

2. …… _____