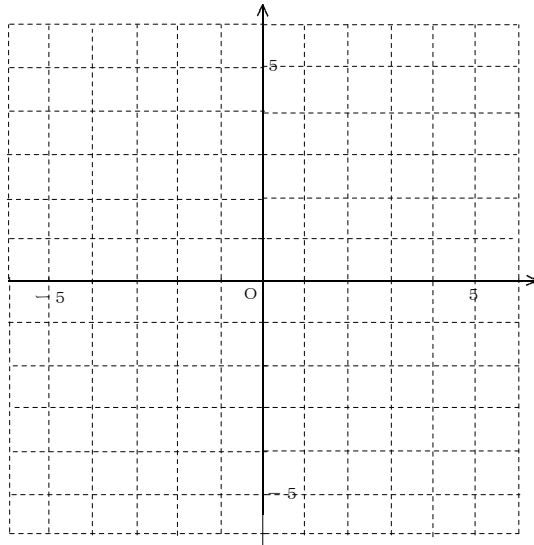


学 楽 (比例と反比例)

(問題)

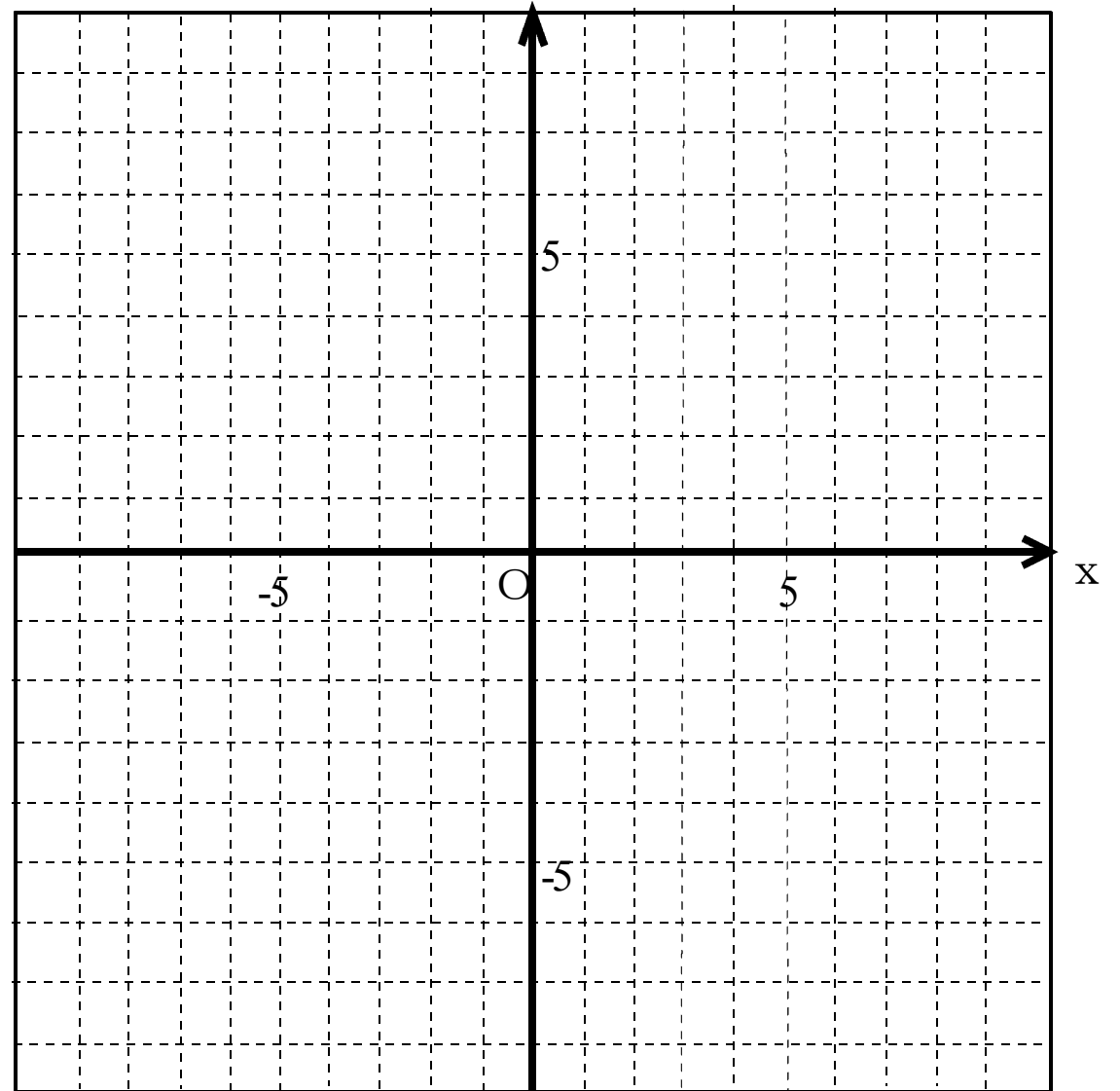
[1] 座標が次のような点を右の座標軸に書きなさい。

- A (5, 3)
- B (-4, 4)
- C (2, -5)
- D (-4, -2)
- E (-3, -4)
- F (-2, 1)
- G (3, 0)
- H (0, 5)

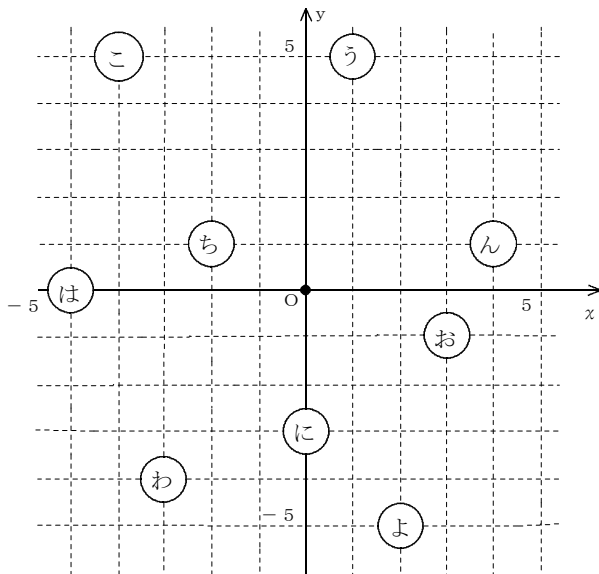


※ $y = 2x$ のグラフを書いてみよう!

x	-5	-4	-3	-2	-1	0	1	2	3	4	5
y											



※ 暗号座標を読解してみよう!



- [1] (-4 , 5) ⇒
- [2] (4 , 1) ⇒
- [3] (0 , -3) ⇒
- [4] (-2 , 1) ⇒
- [5] (-5 , 0) ⇒